

Формирование функциональной грамотности на уроках английского языка



SCHOOL

Функциональная грамотность = качество образования



Электронные ресурсы

1. Банк заданий Института стратегии развития образования РАН;
2. Открытые задания PISA на сайте Федерального института оценки качества образования;
3. Банк заданий для оценки функциональной грамотности от РЭШ;
4. Банк заданий издательства «Просвещение»



- 1) The game is between Arsenal FC and FC Porto/ Manchester United FC.
- 2) The game is on Saturday/Sunday.
- 3) It is held on the 4th/14th of July.
- 4) The game is in the Etihad Stadium/ the Millennium Stadium.
- 5) You can buy tickets on the website/ at the newsagent's.
- 6) The price of an adult ticket is £30, for student/child- £28, for child/student – £25.

1. Представьте, что вы завтра утром первым рейсом вылетаете в Манчестер. Вам необходимо узнать последнюю информацию о футбольном матче, который состоится на стадионе «Этихад», изучив текстовую информацию, представленную на афише.



The poster features a dark red background with diagonal light red stripes. On the left is the FC Porto crest, and on the right is the Arsenal crest. The text is centered and reads: 'Arsenal FC and FC Porto', 'New Street, Manchester the Etihad Stadium', '14th Saturday 2022', 'Tickets', 'Adult £30', 'Student £28', 'Child (3-15) £25', and 'You can buy tickets online <https://www.sports.ru/football/match/>'.

 **Arsenal FC and FC Porto** 

New Street, Manchester
the Etihad Stadium

14th Saturday 2022

Tickets

Adult £30
Student £28
Child (3-15) £25

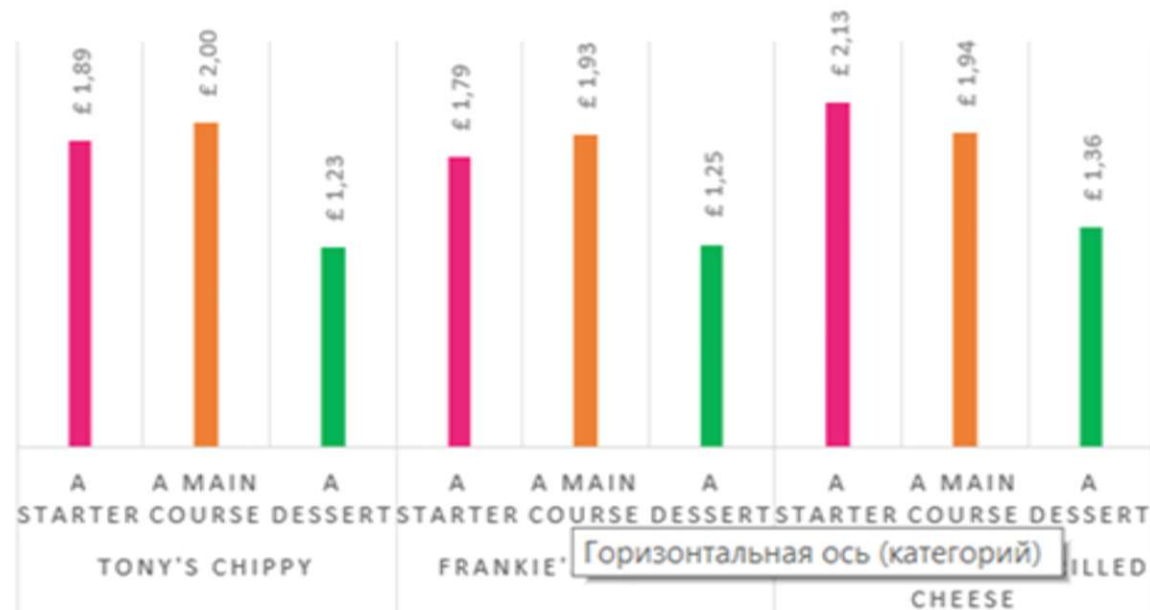
You can buy tickets online <https://www.sports.ru/football/match/>

You can't park here.
You can't go here.
You can drive at 30 mph.
You can go straight.
You can't turn right.

2. Стадион «Этихад» находится рядом с отелем, в котором вы планируете остановиться. Вы можете добраться до стадиона пешком. Однако вы должны следовать правилам дорожного движения. Декодируйте информацию, представленную в виде дорожных знаков.



FAST FOOD RESTAURANTS



3.В Манчестере много ресторанов быстрого питания, но только три из них находятся поблизости от вашего отеля. Проанализируйте гистограмму с группировкой и выберите наиболее бюджетный вариант. Помните, что ваш обед должен состоять из 3 блюд: первое блюдо, основное блюдо и десерт.

A starter -первое блюдо, подаваемое во время трапезы

A main course-основное блюдо, горячее

A dessert- десерт, сладкое (блюдо)

A. Go down King street until you get to the traffic lights. Turn left into Mill Road. It's next to the shoe shop.

B. Take the first left onto New Street. Go down the street and turn right into Queen Street and go straight on. Turn left into Pine Street and go straight on. It's on your left next to the shoe shop.

C. Take the first left onto New Street. Go down the street and turn right into Park Road and go straight on. Turn right into King street. It's opposite the library.

Use the map and describe the route from the Etihad Stadium to Frankie's Toasties.

4. Вы выбрали наиболее подходящий для вас ресторан быстрого питания. Используйте карту и выберите кратчайший путь от отеля до ресторана. Выберите правильный ответ А-С. Опишите путь от стадиона «Этихад» до ресторана быстрого питания « Frankie's Toasties» графическим способом, который наиболее понятен.



The Petrov family has a baby who needs a cradle and a highchair

- 1) Mrs Petrova likes to attend massage sessions
- 2) Mr Petrov likes playing football, tennis and golf
- 3) They need a car and a free parking zone
- 4) Their eldest son is fond of cycling

Задание 1. Семья Петровых планирует летом отправиться на отдых за границу. В турагенстве им были предложены туры в Испанию, Хорватию и Италию. Однако, у семьи Петровых есть определенные требования к турпакету. Вам необходимо выбрать тур, который будет соответствовать их требованиям. Изучите информационную модель, представленную в виде буклета.

См. Приложение 1.

Spain Mallorca



Pure Salt Port Adriano

Common services

currency exchange

concierge

a 24-hour front desk

lift

luggage storage

bicycle rental

car rental

Food Service

restaurant

snack bar

Health & Beauty

Spa and Wellness Center

steam bath

jacuzzi

solarium

massage



Sport

outdoor swimming pool

Special Rooms


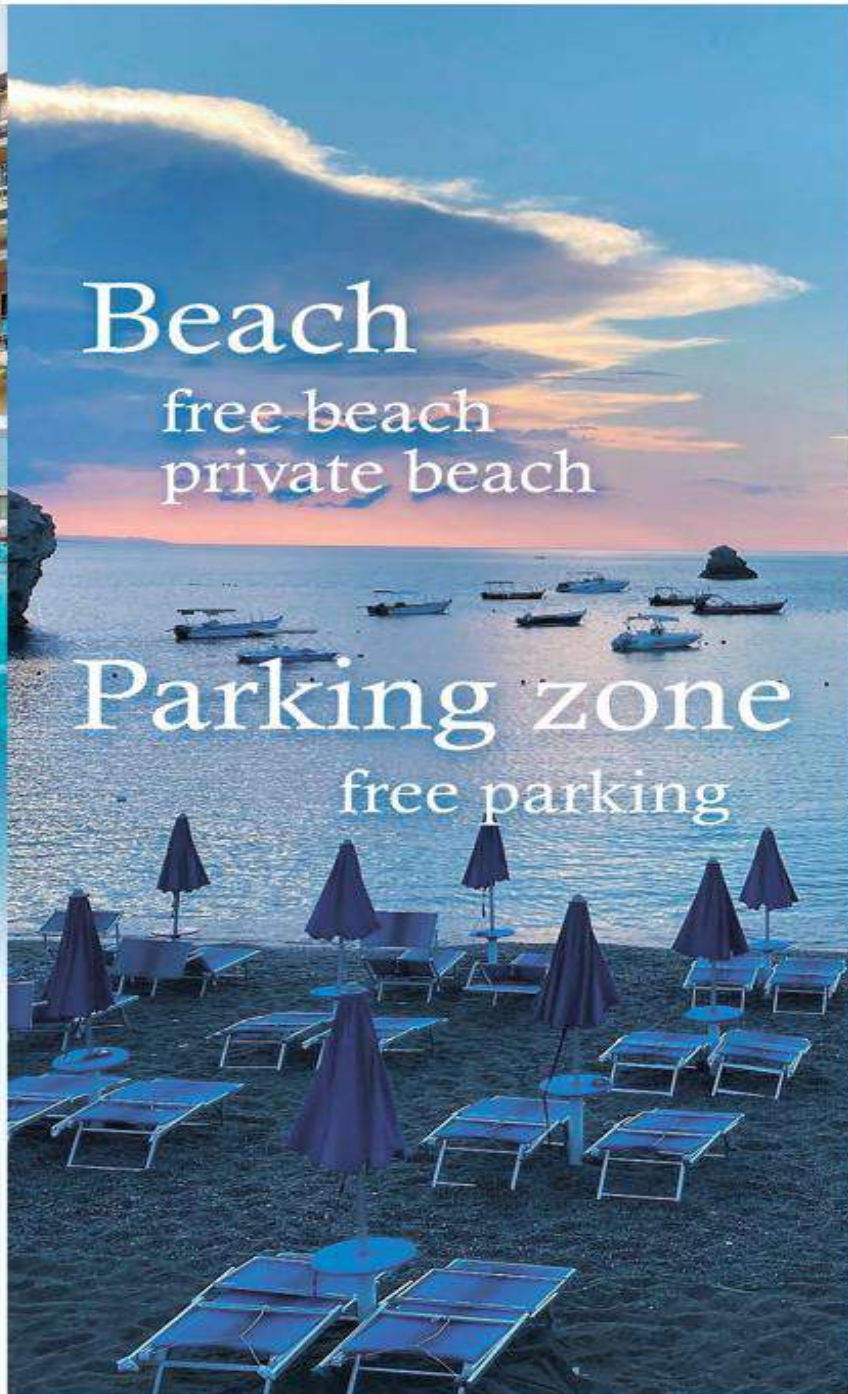
rooms for
disabled people
non-smoking rooms

Beach

free beach
private beach

Parking zone

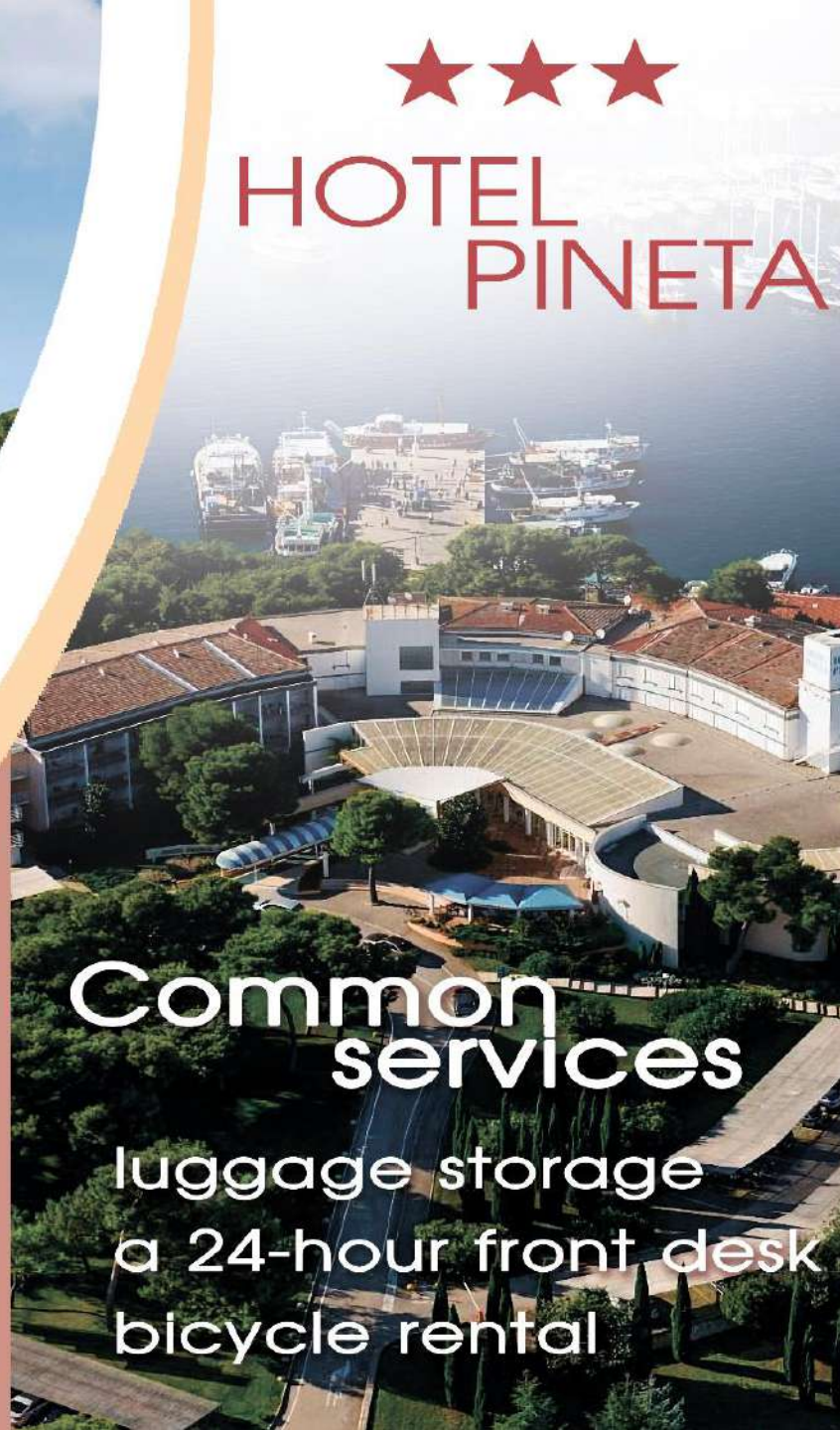
free parking



Croatia
Istria



HOTEL
PINETA



Common
services

luggage storage
a 24-hour front desk
bicycle rental



Food Service
snack bar



Health
&
Beauty



solarium





Italy
Sicily



Mazzaro Sea Palace



Common services

conciierge
banquet hall for
celebrations and seminars
a 24-hour front desk
luggage storage
car rental



Food Service

restaurant
snack bar



Health & Beauty

Spa and Wellness center
jacuzzi
solarium



Free beach
Non-smoking rooms
No parking zone



Beach season in Mallorca begins in June and lasts until August. The temperature of the sea rises up to 1) + _____ °C. On average it rains the most in 2) _____ and 3) _____. So, the best month for the rest is 4) _____. It usually doesn't rain at this time of the year. 5) _____ and 6) _____ are the sunniest months.

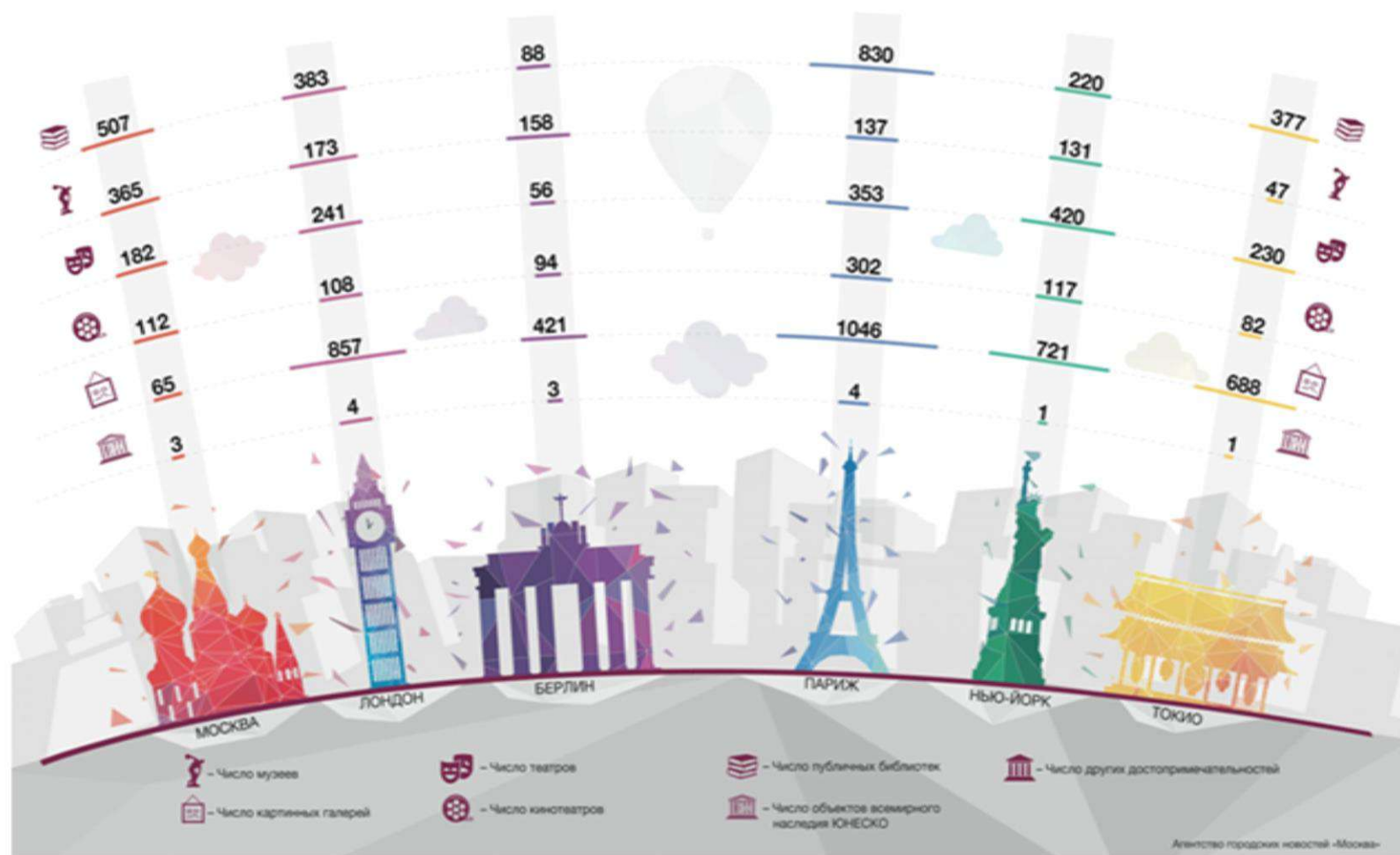
Задание 2. Проанализируйте таблицу и выполните задание. Помогите семье Петровых выбрать лучшее время отдыха на Майорке, заполните пропуски в тексте.

Month	The average temperature (monthly)	Sea surface temperature (SST)	The number of sunny days	The number of rainy days
January	+14.5°C	+14.8°C	19	2 days (28.3mm)
February	+15.5°C	+13.8°C	14	4 days (42.3mm)
March	+16.8°C	+14.2°C	19	3 days (20.3mm)
April	+20°C	+16°C	21	3 days (24.8mm)
May	+22.5°C	+18.6°C	25	0 day (5.0mm)
June	+27°C	+22.4°C	29	2 days (20.3mm)
July	+29°C	+25.1°C	29	0 day (3.2mm)
August	+29°C	+26.4°C	27	2 days (15.8mm)
September	+28.2°C	+26°C	25	2 days (32.4mm)
October	+25.8°C	+24°C	22	1 day (24.7mm)
November	+20.8°C	+20.7°C	18	4 days (77.9mm)
December	+13.5°C	+17°C	20	1 day (20.6mm)

The Petrov family live a busy life nowadays. They don't have much free time for leisure activities, for visiting libraries, cinemas or theatres. However, Mr Petrov is keen on History of foreign countries. He usually visits museums but in the town, where he lives, there is only one museum. He would like to visit Louvre. Mrs Petrova is fond of watching movies. She thinks that it is always a good idea to see a new film or play. Such pastime carries her away from daily routine and gives food for thought. Moreover, she likes Art. She often visits art galleries. Her favourite painters are Pierre Quesnel and Jean Clouet.

Задание 3. Семья Петровых после отдыха на острове хочет провести уикенд в одной из стран, представленных на инфографике «Культурное развитие мегаполисов мира». Прочитайте текст о семье Петровых и выберите страну, которая заинтересует их, проанализировав данную графическую информацию. Затем составьте рейтинг наиболее популярных стран среди туристов, используя информационные технологии.

КУЛЬТУРНОЕ РАЗВИТИЕ МЕГАПОЛИСОВ МИРА



Step- by -step guide to planning a trip

1. Destination
2. Documents
3. Planning
4. Budget
5. Money
6. Tickets
7. Accommodation
8. Insurance
9. Baggage

- a) Decide where you want to go and choose the country you want to visit.
- b) Find out which visa you need. Remember that ensuring that you have an up-to-date passport is necessary for any international travel you plan to do.
- c) Decide on how long you are going to travel. Find out which language the inhabitants speak and which currency needed in the country.
- d) Find out how much money you will spend on a trip
- e) Book your tickets online
- f) Book your accommodation in advance
- g) Travel insurance is the most important thing you should get for your trip. You never know what might happen
- h) Pack your bag. Remember that you need less than what you think

Задание 4. Заполните пропуски, проанализировав алгоритм выбора тура. Затем оформите в виде блок-схемы, используя предложенную ниже информацию.



Do research on the Internet. Make a tourist brochure for tourists about your town.

